

--	--	--	--

KOD UCZNIĄ

**ZESTAW ZADAŃ KONKURSOWYCH Z HISTORII  
DLA UCZNIÓW SZKOŁY PODSTAWOWEJ  
ROK SZKOLNY 2013/2014**

**ETAP WOJEWÓDZKI**

**Instrukcja dla ucznia**

1. Zestaw konkursowy zawiera 23 zadania.
2. Przed rozpoczęciem pracy, sprawdź, czy zestaw zadań jest kompletny.
3. Jeżeli zauważysz usterki, zgłoś je Komisji Konkursowej.
4. Zadania czytaj uważnie i ze zrozumieniem.
5. Rozwiązania zapisuj długopisem lub piórem. Rozwiązania zapisane ołówkiem nie będą oceniane.
6. W nawiasach obok numerów zadań podano liczbę punktów możliwych do uzyskania za dane zadanie.
7. Nie używaj korektora.

**Pracuj samodzielnie.**

Czas pracy:

**90 minut**

Liczba punktów  
możliwych  
do uzyskania: 50

**POWODZENIA!**

Wypełnia komisja konkursowa

Nr zadania	1	2	3	4	5	6	7	8	9	10	11	12	13
Liczba punktów													
Liczba punktów po weryfikacji													
Nr zadania	14	15	16	17	18	19	20	21	22	23	Razem		
Liczba punktów													
Liczba punktów po weryfikacji													

Zatwierdzam

**1. Obejrzyj ilustrację, a następnie odpowiedz na pytania.**

**(2 punkty)**

Źródło: www.wikipedia.org



a) Co przedstawia przedmiot na ilustracji?

.....

b) Do czego służył ten przedmiot?

.....

.....

**2. Zakreśl właściwą definicję do podanych pojęć.**


**(2 punkty)**

Pojęcie		Definicja	
a)	Chronologia to	I	następstwo, kolejność dat, okresów, wydarzeń w czasie; nauka o mierzeniu i ustalaniu czasu.
		II	prahistoria, prehistoria; nauka badająca dzieje ludzkości na podstawie śladów materialnych.
b)	Era to	I	okres stu lat.
		II	okres czasu zapoczątkowany ważnym wydarzeniem.

**3. Zapoznaj się z grafiką i przyporządkuj właściwe wyrazy do luk w tekście, wpisując je w wyznaczone miejsca. (2 punkty)**

Źródło ilustracji: <http://kanondzielsztuki.blogspot.com/2013/03/prehistoria.html>

Źródło tekstu: *Encyklopedia szkolna WSiP. Historia*, wyd. 4 zm. i rozsz., Warszawa 2004, s. 79.



- a. .... to wieś na Pojezierzu Gnieźnieńskim, na której terenie odkryto
- b. .... . Osiedle zajmowało półwysep o powierzchni 2 ha, do którego od lądu prowadziła droga-pomost.

- a. I. Biskupice. II. Biskupin. III. Biskupstwo.
- b. I. gród. II. miasto. III. zamek.

**4. Przyporządkuj po trzy pojęcia do określonego kręgu cywilizacyjnego, wpisując je do odpowiednich rubryk. Uwaga! Jedno z nich jest zbędne. (3 punkty)**

Arka Przymierza; hieroglify; kodeks Hammurabiego; mumia;  
papiirus; pismo klinowe; Stary Testament; Ściana Płaczu; Wielki  
Mur; zikkurat

Mezopotamia	Egipt	Izrael

**5. Uzupełnij luki w tekście korzystając z zaproponowanych wyrazów. (3 punkty)**

*Encyklopedia szkolna WSiP. Historia, wyd. 4 zm. i rozsz., Warszawa 2004, s. 1012.*

W 490 r. p.n.e. pod wodzą Artafernesa i Datysa Persowie wylądowali w Attyce. W bitwie pod  
**a.** ..... Ateńczycy odnieśli zwycięstwo. W 480 r. p.n.e. perskim siłom lądowym  
stawił czoło przed wąwozem **b.** ..... król Sparty **c.** .....,  
lecz został pokonany.

- |           |               |               |                |
|-----------|---------------|---------------|----------------|
| <b>a.</b> | I. Maratonem  | II. Olimpem   | III. Spartą    |
| <b>b.</b> | I. Artemizjon | II. Salamina  | III. Termopile |
| <b>c.</b> | I. Leonidas   | II. Miltiades | III. Perykles  |

**6. Zapoznaj się z biogramem oraz tekstem źródłowym i odpowiedz na pytania. (3 punkty)**

**Neron**, ur. 37, zm. 68, cesarz rzymski od 54 r. Tron zawdzięczał matce. Prześladował senatorów, których wielu skazał na śmierć i konfiskatę majątków. Neronowi przypisywano odpowiedzialność za pożar Rzymu w 64 r. Zainicjował prześladowanie chrześcijan. Uznany przez Senat za wroga ojczyzny, popełnił samobójstwo. *Encyklopedia szkolna WSiP. Historia, wyd. 4 zm. i rozsz., Warszawa 2004, s. 542.*

„[...] nie ustępowała hańbiąca pogłoska i nadal wierzono, że pożar był nakazany. Aby ją więc usunąć podstawił Neron winowajców i dotknął najbardziej wyszukanymi kaźniami tych, których gmin chrześcijanami nazywał. Schwytano więc naprzód tych, którzy tę wiarę publicznie wyznawali, potem na podstawie ich zeznań ogromne mnóstwo innych, i udowodniono im nie tyle zbrodnię podpalenia, ile nienawiść ku rodzajowi ludzkiemu. A śmierci ich przydano to urągowisko, że okryci skórami dzikich zwierząt ginęli rozszarpywani przez psy albo przybici do krzyży, gdy zabrakło dnia, palili się służąc za nocne pochodnie”.

*Źródła i materiały do nauczania historii, red. S. Sierpowski, Warszawa 1998, s. 46.*

a) Napisz, którzy chrześcijanie byli prześladowani w pierwszej kolejności.

.....

b) W jaki sposób zadawano śmierć wyznawcom Chrystusa?

.....

.....

.....

c) Dlaczego Neron rozpoczął prześladowania chrześcijan?

.....

.....

.....

.....




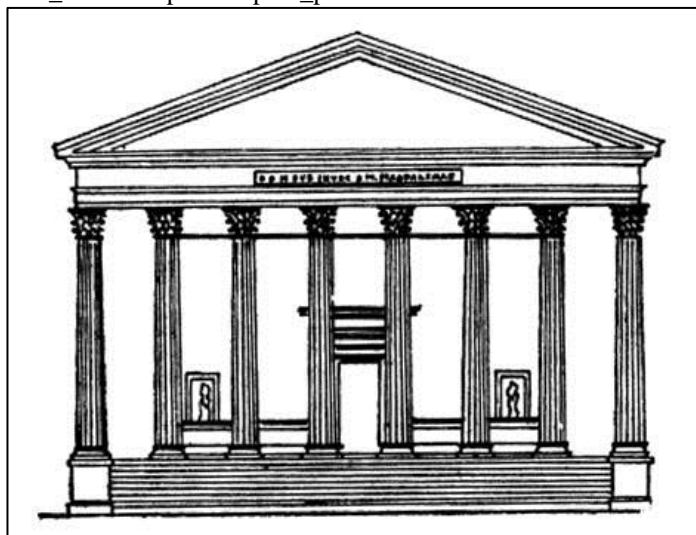
**7. Przyporządkuj pojęcia dotyczące starożytnej Grecji i Rzymu, wpisując je do właściwych komórek w tabeli. (2 punkty)**

Akropol; demokracja; dyktator; legion; olimpiada; Panteon; polis; republika

Grecja	Rzym

**8. Spośród ilustracji oznaczonych cyframi rzymskimi zakreśl odpowiedź wskazującą dwie budowle w głównych stylach architektonicznych występujących w średniowieczu. (1 punkt)**

Źródła ilustracji: [http://www.bryk.pl/s/C5%82owniki/s/C5%82ownik\\_historyczny/88147-klasycyzm\\_z\\_%C5%82ac\\_classicus\\_wzorowy\\_pierwszoroz%C4%99dny.html](http://www.bryk.pl/s/C5%82owniki/s/C5%82ownik_historyczny/88147-klasycyzm_z_%C5%82ac_classicus_wzorowy_pierwszoroz%C4%99dny.html); <http://www.klodzko.jezuici.pl/historia.html>; [http://historia\\_sztuki3.republika.pl/w\\_polsce.html](http://historia_sztuki3.republika.pl/w_polsce.html).



- a) I i II;
- b) II i III;
- c) III i IV;
- d) I i III.

**9. Zaznacz właściwe odpowiedzi.**

**(2 punkty)**

a) Świętą księgą wyznawców islamu jest:

- I. Koran;
- II. Talmud;
- III. Księga Umarłych;
- IV. Księga Wed.

b) Świątynia, w której modlą się muzułmanie, to:

- I. hidżra;
- II. kalif;
- III. meczet;
- IV. ramadan.

**10. Spośród poniższych wydarzeń oznaczonych cyframi I-IV wybierz, stawiając krzyżyk, wydarzenie chronologicznie pierwsze i wydarzenie chronologicznie ostatnie.**

**(2 punkty)**

a	wydarzenie chronologicznie pierwsze	I	II	III	IV
b	wydarzenie chronologicznie ostatnie	I	II	III	IV

- I. Bitwa pod Cedynią.
- II. Chrzest Polski.
- III. Koronacja Bolesława Chrobrego.
- IV. Zjazd w Gnieźnie.

**11. Obok definicji wpisz właściwe nazwy średniowiecznych stanów społecznych.**

**(4 punkty)**

Źródło definicji: *Encyklopedia szkolna WSiP. Historia*, wyd. 4 zm. i rozsz., Warszawa 2004, s. 144, 804; Encyklopedia multimedialna PWN 2.0. Historia.

Pojęcie		Definicja
a)		w średniowiecznej Europie uprzywilejowana warstwa społeczna; ciężkozbrojni walczący konno.
b)		ogół osób związanych z wykonywaniem kultu Bożego (funkcja sakralna) i posiadających odpowiednie święcenia.
c)		ludność prowadząca określony styl życia, odmienny od wiejskiego i arystokratycznego, podlegająca prawu miejskiemu.
d)		ogół ludności trudniącej się uprawą roli i hodowlą zwierząt.

**12. Przedstawionym postaciom przyporządkuj właściwe ilustracje, wpisując ich rzymskie numery w komórkach tabeli. (2 punkty)**



Źródła ilustracji: <http://www.gutenberg.czyz.org/grafika/08/g0801801.gif> ;

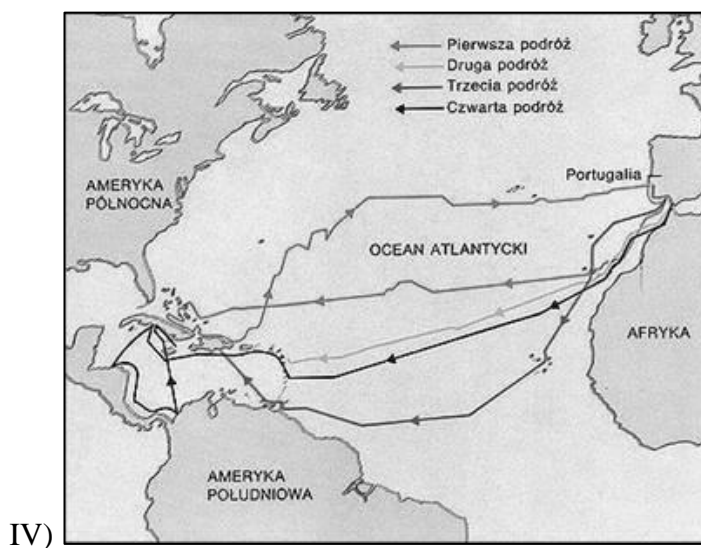
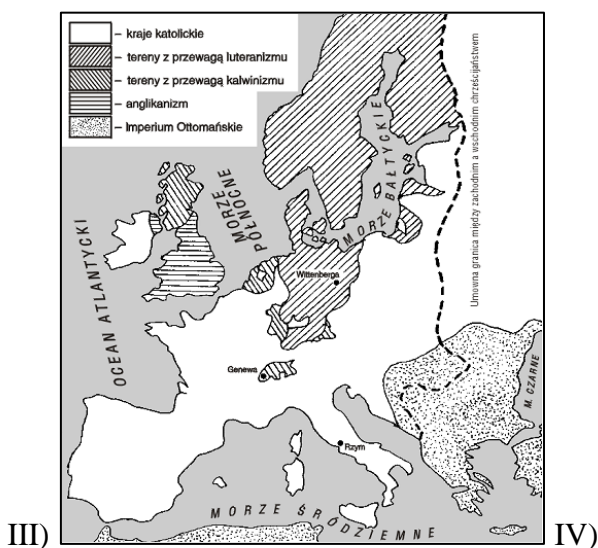


[http://upload.wikimedia.org/wikipedia/commons/7/77/Martin\\_Luther-black\\_and\\_white-left.jpg](http://upload.wikimedia.org/wikipedia/commons/7/77/Martin_Luther-black_and_white-left.jpg) ;

<http://images38.fotosik.pl/453/f1e1cd751c438a99.jpg> ; <http://upload.wikimedia.org/wikipedia/commons/4/4c/LutherRose.jpg> ;

[http://www.bryk.pl/s%C5%82owniki/s%C5%82ownik\\_historyczny/88491-reformacja.html](http://www.bryk.pl/s%C5%82owniki/s%C5%82ownik_historyczny/88491-reformacja.html) ;

[http://www.gimnazjumprabuty.pl/publikacje/odkrycia\\_geograficzne\\_pliki/slide0014\\_image035.jpg](http://www.gimnazjumprabuty.pl/publikacje/odkrycia_geograficzne_pliki/slide0014_image035.jpg) .

			
a) Krzysztof Kolumb		b) Marcin Luter	



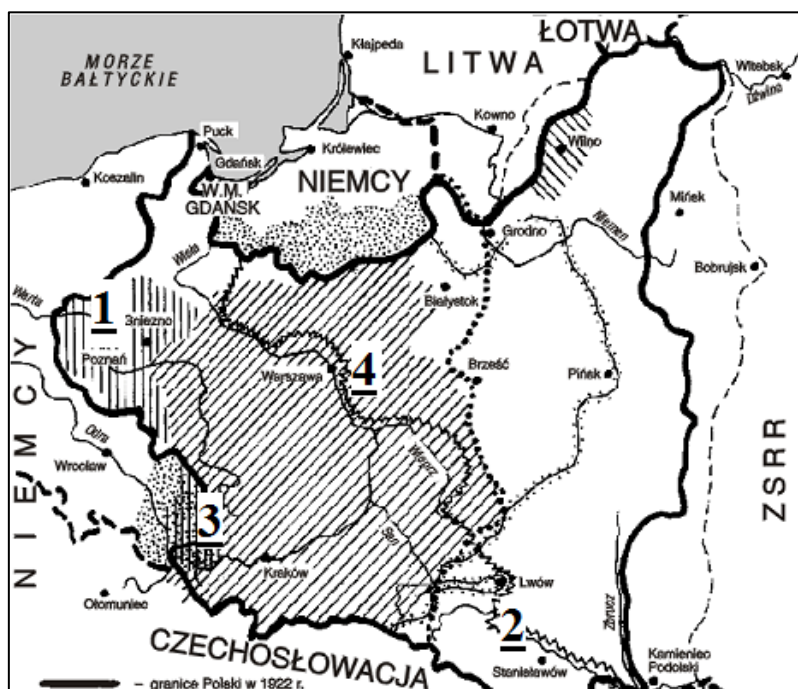
**13. Napisz imię i nazwisko osoby, o której mowa poniżej.**

**(1 punkt)**

W Rzeczypospolitej był uczestnikiem konfederacji barskiej (1768-1772). W Ameryce Północnej walczył o niepodległość Stanów Zjednoczonych Ameryki, gdzie zginął podczas walk (1779).

**14. Uzupełnij tabelkę, przyporządkowując do numerów zaznaczonych na mapie odpowiednie wydarzenia z datami.**

**(4 punkty)**



Wydarzenia
cud nad Wisłą; powstania śląskie; powstanie wielkopolskie; walki z Ukraińcami

Daty
1918-1919; 1918-1919; 1919-1920-1921; 1920

Nr na mapie	wydarzenie	Daty
1		
2		
3		
4		



**15. Obejrzyj postać ukazaną na poniższym zdjęciu i zakreśl właściwe odpowiedzi.**

**(2 punkty)**

Źródło: www.welt.de



a) Ilustracja przedstawia:

- I) Adolfa Hitlera;
- II) Benito Mussoliniego;
- III) Józefa Stalina.

b) Państwo, w którym ta osoba była dyktatorem to:

- I) Niemcy;
- II) Włochy;
- III) Związek Socjalistycznych Republik Radzieckich.

**16. Przeczytaj poniższy tekst i odpowiedz na pytania.**

**(3 punkty)**

Źródło: *Źródła i materiały do nauczania historii*, red. S. Sierpowski, Warszawa 1998, s. 269-271.

Likwidacji elementu przywódczego w okupowanej Polsce postanowiły władze hitlerowskie dokonywać dwoma sposobami: przez natychmiastowe uśmiercanie oraz zsyłanie do obozów koncentracyjnych. Realizację pierwszego sposobu powierzyły one tak zwanym grupom operacyjnym SS (Einsatzgruppen SS), utworzonym [...] przez Himmlera w dniach od 3 do 16 września 1939 r. Wkroczyły one do Polski tuż za zajmującym ją Wehrmachtem. [...] Likwidację elementu przywódczego przeprowadzono z żelazną konsekwencją na podstawie dwóch sporządzonych poprzednio list, [które] obejmowały nazwiska około 80 tys. osób, w tym działaczy politycznych różnych orientacji, powstańców śląskich i wielkopolskich, aktywnych działaczy organizacji społecznych, niektórych twórców, dużej liczby nauczycieli, księży katolickich i urzędników państwowych, wybitniejszych przedstawicieli życia gospodarczego [...].

a) Przedstawiciele jakiego narodu mordowali Polaków.

.....

b) W czasie jakiego konfliktu doszło do opisywanych w źródle sytuacji.

.....

c) Wypisz trzy grupy Polaków spośród tych, którzy byli najbardziej narażeni na likwidację.

.....  
.....  
.....

**17. Spośród wymienionych poniżej podkreśl nazwiska prezydentów Polski międzywojennej (II Rzeczpospolitej).** **(1 punkt)**

Roman Dmowski;                      Ryszard Kaczorowski;                      Ignacy Mościcki;  
 Gabriel Narutowicz;                      Józef Piłsudski;                      Stanisław Wojciechowski

**18. Połącz nazwy z ich definicjami, wpisując w miejsce kropek odpowiednie numery.** **(4 punkty)**

Źródło: *Encyklopedia szkolna WSiP. Historia*, wyd. 4 zm. i rozsz., Warszawa 2004, s. 247, 572, 846, 857.

- a) getto                      ...
- b) okrągły stół                      ...
- c) socjalizm                      ...
- d) stan wojenny                      ...

I) wydzielona część miasta (ulica, dzielnica), zamieszкана przez odrębną społeczność narodową lub religijną; w czasie II wojny światowej Niemcy tworzyli w polskich miastach getta przeznaczone dla Żydów lub Polaków pochodzenia żydowskiego;

II) ideologia i system poglądów kształtujący się w XIX w., podkreślający konieczność dążenia do stworzenia nowego porządku społecznego opartego na zasadzie równości między ludźmi; [również ustrój w Polsce po II wojnie pod rządami komunistów];

III) [okres w dziejach PRL obejmujący lata 1981-83] wprowadzony w nocy 12/13 XII 1981 przez władze polityczne PRL. Formalnie o [jego] wprowadzeniu zdecydowała Rada Państwa na wniosek Wojskowej Rady Ocalenia Narodowego;

IV) negocjacje prowadzone w Polsce od 6 II do 5 IV 1989 między przedstawicielami władz państwowych a opozycją polityczną związaną z Niezależnym Samorządnym Związkiem Zawodowym „Solidarność”.

**19. Przyporządkuj miejsca z datami walk w czasie II wojny światowej do właściwych kolumn w tabeli. Uwaga! Jedno wydarzenie jest zbędne.**

**(2 punkty)**

Narvik 1940; Lenino 1943; Monte Cassino 1944; Normandia 1944; Kołobrzeg 1945; Okinawa 1945; Berlin 1945

Polskie Siły Zbrojne na Zachodzie	Wojsko Polskie u boku ZSRR

**20. Podkreśl właściwą odpowiedź.**

**(1 punkt)**

Do grona osób zasiadających w Wielkiej Trójce należeli:

- a) Józef Stalin – Franklin Delano Roosevelt – Winston Churchill
- b) Franklin Delano Roosevelt – Władysław Sikorski – Józef Stalin
- c) Winston Churchill – Józef Stalin – Władysław Anders

**21. Uporządkuj chronologicznie wydarzenia z powojennej historii Polski, począwszy od najwcześniejszego przy literce a), wpisując cyfry rzymskie.**

**(1 punkt)**

- a) - .....
- b) - .....
- c) - .....
- d) - .....
- e) - .....

- I) czerwcowe strajki w Radomiu i Ursusie
- II) czerwcowy protest robotników w Poznaniu
- III) grudniowe wystąpienia na Wybrzeżu
- IV) marcowe demonstracje studentów
- V) sierpniowe porozumienie robotników z rządzącymi

**22. Poniżej przedstawiono flagi dwóch organizacji międzynarodowych, do których Polska przystąpiła po 1989 r. Wybierz z tabeli właściwy skrót nazwy określający nazwę organizacji, przyporządkuj go do flagi i rozwiń go.**

**(2 punkty)**

Źródło: www.wikipedia.org



NATO; ONZ; UE

- a) Flaga I - .....  
(skrót) ..... (rozwińcie skrót)
- b) Flaga II - .....  
(skrót) ..... (rozwińcie skrót)

**23. Poniżej przedstawiono ilustracje przedstawiające polskich prezydentów po 1989 r. wybranych w wyborach powszechnych. U szereguj ich chronologicznie od pierwszego sprawującego ten urząd przy literce a), wpisując cyfry rzymskie.**

*(1 punkt)*

Źródło: [www.wikipedia.org](http://www.wikipedia.org) ; [www.prezydent.pl](http://www.prezydent.pl) ;



I)



II)



III)



IV)

a) - .....

b) - .....

c) - .....

d) - .....